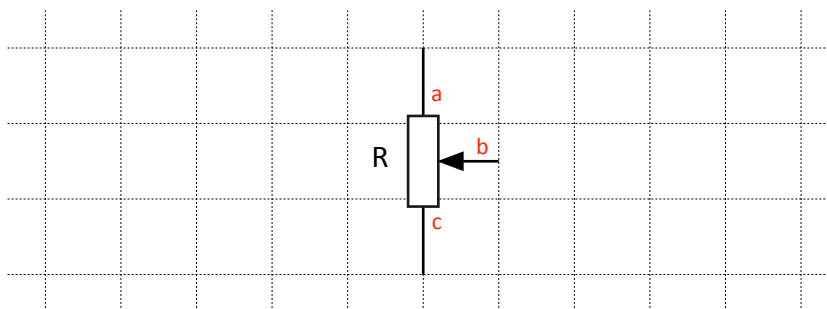


## ACQUISITION GRANDEUR ANALOGIQUE – DOCUMENT RÉPONSE

Question n°1 :

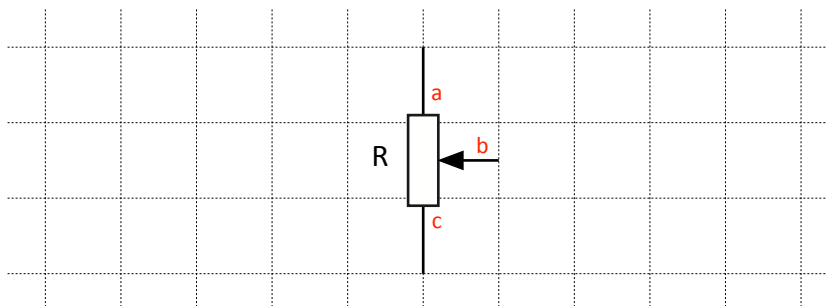
*Résistance totale du potentiomètre*



R totale = .....

Question n°4 :

*Résistance entre le curseur et l'extrémité c*

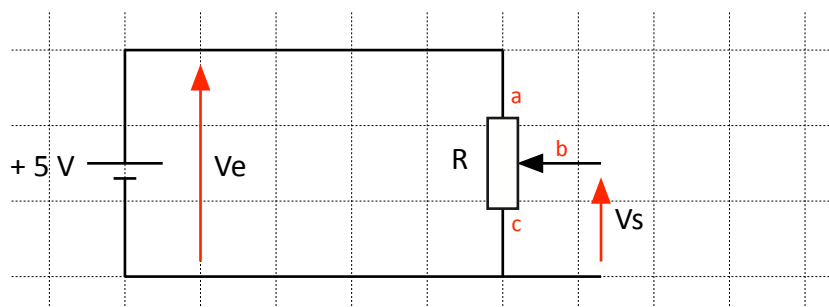


Question n°6 :

*Tableau de mesure*

Position	0	1	2	3	4	5
$\alpha$ en °	...					
R en $\Omega$	...					

## Question n°8 :

*Tensions  $V_e$  et  $V_s$*  $V_e = \dots\dots\dots$ 

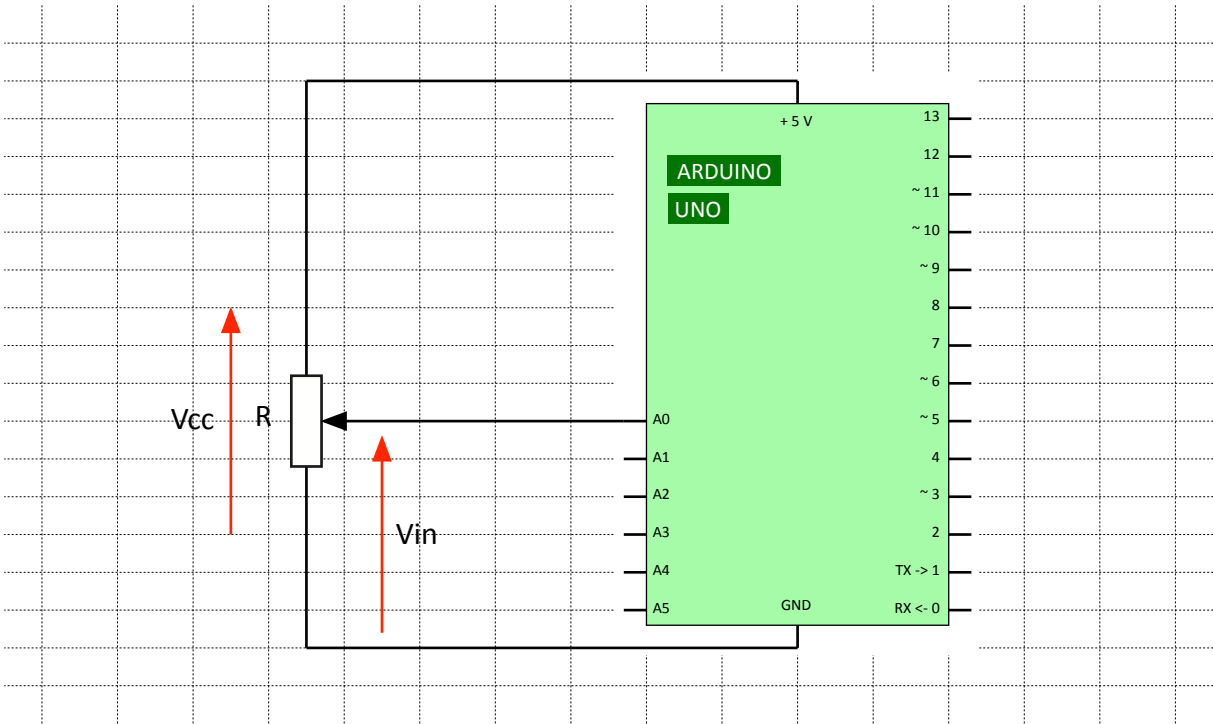
## Question n°10 :

*Tableau de mesure*

Position	0	1	2	3	4	5
$\alpha$ en °	...					
$V_s$ en V	...					

Question n°13 :

Tensions Vcc et Vin



Vcc = .....

Question n°16 :

Tableau de mesure

Position	0	1	2	3	4	5
$\alpha$ en °	...					
Vin en V	...					
Code N	...					

Question n°7 :

	<i>Vin min</i>			<i>Vin max</i>		
Vin (V)	0	1	...			
Angle $\alpha$ (°)	...					

$\alpha = f(Vin)$

